



PROPOSED KEY ANSWERS
FOR THE WRITTEN EXAMINATION CONDUCTED FOR THE
POST OF DRIVER IN THE MADRAS HIGH COURT SERVICE

(Notification No.3/2024, dated 15.01.2024)

The proposed key answers marked in the Question Booklet (**A-Series**), for the Written Examination for the post of **Driver** in the Madras High Court Service conducted on 04.05.2024 (Saturday) are hosted herewith.

Any objection with regard to any of the proposed key answers should be sent by the candidates to the Registrar (Recruitment), High Court, Madras, through e-mail (**judicialrecruitmentcell.mhc@gmail.com**) within **two days from today**. In such communication, Registration Number, Name and address of the candidate, Question Number, Series of the Question Booklet and answer for such question according to the candidate with supporting material for such claim should be quoted invariably. Any representation received after two days or without any of the above requisite particulars will receive no attention.

Dated: 07.05.2024
Place: Chennai.

Sd/-XXX
Registrar (Recruitment)

Booklet No.

6829

பதிவு எண்.

அனுமதிக்கப்பட்டுள்ள நேரம் : 150 நிமிடங்கள் (2.30 மணி)

மொத்த மதிப்பெண்கள் : 125

தேர்வர்களுக்கான முக்கிய அறிவுரைகள்

வினாக்களுக்கு பதிலளிக்க தொடங்கும் முன் கீழ்க்கண்ட அறிவுரைகளை கவனமாகப் படிக்கவும்

1. இந்த வினாத் தொகுப்பு, தேர்வு தொடங்குவதற்கு 10 நிமிடங்களுக்கு முன்னதாக விண்ணப்பதாரர்களுக்கு வழங்கப்படும்.
2. இந்த வினாத் தொகுப்பு 125 வினாக்களைக் கொண்டுள்ளது. விடையளிக்க தொடங்கும் முன் இவ்வினாத் தொகுப்பில் எல்லா வினாக்களும் வரிசையாக இடம் பெற்றுள்ளனவா என்பதையும், இடையில் ஏதேனும் வெற்றுத்தாள்கள் உள்ளனவா என்பதையும் சரிபார்த்துக் கொள்ளவும். ஏதேனும் குறைபாடு இருப்பின், அதனைத் தேர்வு தொடங்குவதற்கு முன்பு முதல் பத்து நிமிடத்திற்குள் அறை கண்காணிப்பாளரிடம் தெரிவித்து, சரியாக உள்ள அதே வரிசையுள்ள வேறொரு வினாத் தொகுப்பினை பெற்றுக் கொள்ள வேண்டும். தேர்வு தொடங்கிய பத்து நிமிடத்திற்கு பின்பு முறையிட்டால், வினாத் தொகுப்பு மாற்றித் தரப்படமாட்டாது.
3. ஒவ்வொரு வினாவிற்கும் ஒரு மதிப்பெண் வழங்கப்படும். (தவறான விடைக்கு மதிப்பெண் குறைக்கப்படமாட்டாது)
4. விண்ணப்பதாரர்கள் தங்களுடைய பதிவு எண்ணை இந்தப் பக்கத்தின் வலது மேல் மூலையில் அதற்கென அமைந்துள்ள இடத்தில் எழுத வேண்டும். வேறு எதையும் வினாத் தொகுப்பில் எழுதக் கூடாது.
5. விடைகளை குறித்துக்காட்ட **OMR** விடைத்தாள்' விண்ணப்பதாரர்களுக்கு அறை கண்காணிப்பாளரால் தரப்படும். **OMR** விடைத்தாள் ஏதேனும் குறைபாடுடையதாக இருந்தால், அதில் விடையைக் குறித்துக்காட்டுவதற்கு முன் உடனடியாக அறை கண்காணிப்பாளரின் கவனத்திற்கு கொண்டுவந்து வேறொரு **OMR** விடைத்தாளைப் பெற்றுக்கொள்ள வேண்டும்.
6. விண்ணப்பதாரர்கள் தங்களது வினாத் தொகுப்பு எண் (Question Booklet Number) மற்றும் அதன் வரிசையை விடைத்தாளின் முதல் பக்கத்தில் அதற்கென அமைந்துள்ள இடத்தில் நீலம் அல்லது கருமை நிற மையுடைய பந்துமுனைப் பேனாவினால் குறித்துக் காட்ட வேண்டும்.

மீதமுள்ள அறிவுரைகளை இறுதி பக்கம் பார்க்கவும்

SEAL

6388

PART – A

1. மக்கள் வாழும் நிலப்பகுதியைக் குறிக்கும் சொல்
- (A) வைப்பு (B) கடல்
(C) பறவை (D) ஆழி
2. 'வானமளந்து' எனும் சொல்லைப் பிரித்து எழுதக்கிடைப்பது
- (A) வானா + மளந்து (B) வான் + அளந்து
(C) வானம் + அளந்து (D) வான் + மளந்தது
3. இயற்கையைப் போற்றுதல் தமிழர்
- (A) மரபு (B) பொழுது
(C) வரவு (D) தகவு
4. இதழ்களை குவிப்பதால் பிறக்கும் எழுத்துக்கள்
- (A) இ, ஈ (B) உ, ஊ
(C) எ, ஏ (D) வ்
5. கீழ் இதலும் மேல்வாய் பல்லும் இணைவதால் பிறக்கும் எழுத்து
- (A) ம் (B) ப்
(C) ய் (D) வ்
6. முற்றுப் பெறாமல் எஞ்சி நிற்கும் சொல்
- (A) முற்று (B) எச்சம்
(C) முற்றெச்சம் (D) வினையெச்சம்

7. தோட்டத்தில் நம்பி ஊன்றிய ————— எல்லாம் முளைத்தன.
- (A) சத்துக்கள் (B) பித்துகள்
(C) முத்துகள் (D) வித்துகள்
8. ஐந்தாம் உலகத்தமிழ் மாநாடு நடைபெற்ற இடம்
- (A) திருச்சி (B) சென்னை
(C) மதுரை (D) கோவை
9. இந்திய அரசு சிறந்த நடிகருக்கான ————— எனும் பட்டத்தை எம்.ஜி.ஆருக்கு வழங்கியது.
- (A) புரட்சித் தலைவர் (B) பாரத்
(C) பாரதமணி (D) புரட்சி நடிகர்
10. பொருத்தமான இணையைத் தேர்வு செய்க.
- (A) நிறை - பொறுமை
(B) பொறை - கொள்கை
(C) மதம் - மேன்மை
(D) மையல் - விருப்பம்
11. அடுத்தவர் வாழ்வைக் கண்டு ————— கொள்ளக்கூடாது.
- (A) உவகை (B) நிறை
(C) அழுக்காறு (D) இன்பம்
12. அம்பேத்கரின் சமூகப்பணிகளைப் பாராட்டி இந்திய அரசு ————— விருது வழங்கியது.
- (A) பத்மபூரி (B) பாரத ரத்னா
(C) பத்மவிபூசன் (D) பத்மபூசன்

13. காந்தியடிகள் ————— போற்ற வாழ்ந்தார்.

- (A) வையம் (B) களம்
(C) நிலம் (D) வானம்

14. குறிப்பு வினையெச்சம் ————— வெளிப்படையாக காட்டாது.

- (A) வினையை (B) காலத்தை
(C) பண்பினை (D) பெயரை

15. பொருந்தாத இணை எது?

- (A) ஏறுகோள் - எருது கட்டி
(B) திருவாரூர் - கரிக்கையூர்
(C) ஆதிச்சநல்லூர் - அரிக்க மேடு
(D) பட்டிமன்றம் - பட்டி மண்டபம்

16. முறையான தொடர் அமைப்பினைக் குறிப்பிடுக.

- (A) தமிழர்களின் வீர விளையாட்டு தொன்மையான ஏறு தழுவுதல்
(B) தொன்மையான வீரவிளையாட்டு தமிழர்களின் ஏறு தழுவுதல்
(C) தமிழர்களின் வீரவிளையாட்டு ஏறு தழுவுதல் தொன்மையான
(D) தமிழர்களின் தொன்மையான வீர விளையாட்டு ஏறு தழுவுதல்

17. தமிழ் நாடு அரசு கிராமப்புற மாணவர்களுக்கு நடத்தும் திறனாய்வு தேர்வு எது?

- (A) தேசியத் திறனாய்வுத் தேர்வு
(B) ஊரகத் திறனாய்வுத் தேர்வு
(C) தேசியத் திறனாய்வு மற்றும் கல்வி உதவித் தொகைத் தேர்வு
(D) மூன்றாம் சரி

18. இந்திய விண்வெளித் திட்டத்தின் தந்தை ;
- (A) விக்ரம் சாராபாய் (B) அப்துல்கலாம்
(C) மயில்சாமி அண்ணாதுரை (D) அருண் சுப்பையா
19. இந்திய ஏவுகணையின் நாயகன் என்பவர்
- (A) மயில்சாமி அண்ணாதுரை (B) விக்ரம் சாராபாய்
(C) அப்துல்கலாம் (D) வளர்மதி
20. 1952-இல் புற்றுநோய் மருத்துவமனை ஆகியவற்றை நிறுவியவர்
- (A) முத்துலெட்சுமி (B) ஐடாஸ் சோபியா ஸ்கட்டர்
(C) பண்டித ரமாபாய் (D) சாவித்திரிபாய் பூலே
21. தமிழ்நாடு அரசு சிற்பக் கல்லூரியை ————— இடத்தில் நடத்தி வருகிறது.
- (A) தஞ்சாவூர் (B) திருநெல்வேலி
(C) திருச்சிராப்பள்ளி (D) மாமல்லபுரம்
22. தமிழின் தொன்மையான இலக்கண நூல் எது?
- (A) இறையனார் களவியல் உரை (B) தொல்காப்பியம்
(C) நன்னூல் (D) யாப்பருங்கலக்காரிகை
23. ஐஞ்சிறு காப்பியங்களுள் ஒன்று
- (A) சிலப்பதிகாரம் (B) மணிமேகலை
(C) யசோதரகாவியம் (D) வளையாபதி

24. “யாதும் ஊரே யாவரும் கேளிர்” என்னும் கொள்கை செய்யுளை எழுதியவர்
- (A) திருவள்ளுவர் (B) கணியன் பூங்குன்றனார்
(C) தொல்காப்பியர் (D) இளம்பூரணர்
25. பின்வருவனவற்றுள் முறையான தொடர்
- (A) தமிழர் பண்பாட்டில் வாழை இலைக்கு இடமுண்டு
(B) தமிழர் வாழை இலைக்குப் பண்பாட்டில் தனித்த இடமுண்டு
(C) தமிழர் பண்பாட்டில் தனித்த இலைக்கு இடமுண்டு
(D) தமிழர் வாழை பண்பாட்டில் தனித்த இலைக்கு இடமுண்டு
26. மலர்கள் தரையில் நழுவும் எப்போது
- (A) அள்ளி முகர்ந்தாள் (B) தளரப் பிணைத்தால்
(C) இறுக்கி முடிச்சிட்டால் (D) காம்பு முறிந்தால்
27. கோசல நாட்டில் கொடை இல்லாத காரணம் என்ன?
- (A) நல்ல உள்ளம் உடையவர்கள் இல்லாததால்
(B) அங்கு வறுமை இல்லாததால்
(C) அரசன் கொடுங்கோல் ஆட்சி புரிவதால்
(D) ஊரில் விளைச்சல் இல்லாததால்
28. தன்நாட்டு மக்களுக்குத் தந்தையும், தாயும் மகனுமாக இருந்த அரசன் என்றும் மெய்க்கீர்த்தித் தொடர் உணர்த்தும் பொருள்
- (A) மேம்பட்ட நிருவாகத் திறன் பெற்றவர்
(B) மிகுந்த செல்வம் உடையவர்
(C) பண்பட்ட மனிதநேயம் கொண்டவர்
(D) நெரியோடு நின்று காவல் காப்பவர்

29. கண்ணதாசனின் இயற்பெயர்

(A) செல்லையா

(B) இராமானுசர்

(C) முத்தையா

(D) கவியரசு

30. மேண்மை தரும் அறம் என்பது

(A) கைம்மாறு கருதாமல் அறம் செய்வது

(B) மறுப்பிறப்பில் பயன் பெறலாம் என்ற நோக்கில் அறம் செய்வது

(C) புகழ் கருதி அறம் செய்வது

(D) பதிலுதவி பெறுவதற்காக அறம் செய்வது

31. அரசுப் பணியை உதறிவிட்டு முழுதாக எழுத்துப் பணியை மேற்கொண்டவர்

(A) ஜெயகாந்தன்

(B) புதுமைபித்தன்

(C) கு. அழகிரிசாமி

(D) மு. மேத்தா

32. சொல்லின் செல்வர் என்று போற்றப்படுபவர் யார்?

(A) அனுமன்

(B) வாணிதாசன்

(C) ரா.பி. சேதுப்பிள்ளை

(D) கண்ணதாசன்

33. காந்தியடிகளிடம் உடை அணிவதில் மாற்றத்தை ஏற்படுத்திய ஊர்?

(A) கோவை

(B) மதுரை

(C) தஞ்சாவூர்

(D) சிதம்பரம்

34. காயிதே மில்லத் எம்மொழிச் சொல்

(A) அரபி

(B) உருது

(C) தமிழ்

(D) மலையாளம்

35. காரணப் பெயரை வட்டமிடுக.

(A) மரம்

(B) சுவர்

(C) வளையல்

(D) யானை

36. புத்தரின் வரலாற்றைக் கூறும் நூல்

(A) ஜீவ ஜோதி

(B) நவ ஜோதி

(C) ஆசிய ஜோதி

(D) ஜீவன் ஜோதி

37. நேர்மையான வாழ்வை வாழ்பவர்

(A) எல்லா உயிர்களிடத்தும் இறக்கம் கொண்டவர்

(B) உயிர்களைத் துன்புறுத்துபவர்

(C) தம்மை மட்டும் காத்துக் கொள்பவர்

(D) தம் குடும்பத்தை எண்ணி வாழ்பவர்

38. ஒருவர் செய்யக் கூடாதது

(A) நல்வினை

(B) தீவினை

(C) பிறவினை

(D) தன்வினை

39. மலை + எலாம் என்பதனைச் சேர்த்து எழுதக் கிடைக்கும் சொல்

(A) மலைஎலாம்

(B) மலையெல்லாம்

(C) மலையெலாம்

(D) மலை எல்லாம்

40. எல்லா உயிர்களிடத்தும் அன்பு செலுத்துதல்

(A) மனித வாழ்க்கை

(B) மனித உரிமை

(C) மனித நேயம்

(D) மனித உடைமை

41. தம் பொருளைக் கவர்ந்தவரிடம் ————— காட்டியவர் வள்ளலார்.

(A) கோபம்

(B) வெறுப்பு

(C) கவலை

(D) அன்பு

42. அன்னை தெரசாவிடம் —————க்கான “நோபல் பரிசு” கிடைத்தது.

(A) பொருளாதாரம்

(B) இயற்பியல்

(C) மருத்துவம்

(D) அமைதி

43. “வாடிய பயிரைக் கண்ட போதெல்லாம் வாடினேன்”

(A) காமராசர்

(B) மகாத்மா காந்தி

(C) வள்ளலார்

(D) திருவள்ளுவர்

44. தமிழகச் சிற்பக் கலையில் ————— கலை இடம்பெற்றுள்ளது.

(A) நாட்டியக் கலை

(B) இசைக் கலை

(C) கட்டிடக் கலை

(D) ஓவியக் கலை

45. மணிமேகலா தெய்வம் மணிமேகலையை அழைத்துச் சென்ற தீவு.

- (A) இலங்கைத் தீவு (B) இலட்சத் தீவு
(C) மணிபல்லவத் தீவு (D) மாலத் தீவு

46. பரிசு பெறும் போது நம் மனநிலை ————— ஆக இருக்கும்.

- (A) கவலை (B) துன்பம்
(C) மகிழ்ச்சி (D) சோர்வு

47. வாழ்வில் உயர், கடினமாக ————— வேண்டும்.

- (A) பேச (B) சிரிக்க
(C) நடக்க (D) உழைக்க

48. இராமநாதபுரத்தை ஆட்சி செய்த மன்னரின் ஒரே மகள் —————

- (A) லட்சுமிபாய் (B) ஜான்சிராணி
(C) வேலுநாச்சியார் (D) உடையாள்

49. கலைக் கூடமாகக் காட்சி தருவது

- (A) சிற்பக் கூடம் (B) ஓவியக் கூடம்
(C) பள்ளிக் கூடம் (D) சிறைக் கூடம்

50. இந்திய விடுதலைக்கு முன்னின்று பரூபட்டவர் —————

- (A) கொடிக்காத்த குமரன் (B) நேதாஜி
(C) காந்தியடிகள் (D) பாரதியார்

PART - B

51. Which one is not part of the Panchayat Raj?

- (A) Samiti (B) Village
(C) Township (D) Zila Parishad

எந்த ஒன்று பஞ்சாயத் ராஜ்யத்தில் இல்லை?

- (A) சமிதி (B) கிராமம்
(C) நகரியம் (D) ஜில்லா பரிசாத்

52. The first state to be created on Linguistic basis was

- (A) Kashmir (B) Tamil Nadu
(C) Karnataka (D) Andhra

முதல் மொழிவாரி மாநிலம் எது?

- (A) காஷ்மீர் (B) தமிழ்நாடு
(C) கர்நாடகா (D) ஆந்திரா

53. The Chief Justice and other judges of the Indian Supreme Court are appointed by

- (A) The President (B) The Attorney General
(C) The Governor (D) The Prime Minister

இந்திய உச்ச நீதிமன்ற தலைமை நீதிபதி மற்றும் பிற நீதிபதிகளை நியமிப்பவர்

- (A) குடியரசுத் தலைவர் (B) தலைமை வழக்குரைஞர்
(C) ஆளுநர் (D) பிரதம மந்திரி

54. Which of the following is sensitive to ultrasonic waves?

- (A) Man (B) Bat
(C) Bird (D) Fish

கேளா ஒலியை உணரும் தன்மை யாருக்கு உள்ளது?

- (A) மனிதன் (B) வெளவால்
(C) பறவை (D) மீன்

55. Where was the first Indian National Congress met?

- (A) Delhi (B) Bombay
(C) Calcutta (D) Madras

முதல் இந்திய தேசிய காங்கிரஸின் கூட்டம் எங்கு கூடியது?

- (A) டெல்லி (B) பம்பாய்
(C) கல்கத்தா (D) சென்னை

56. The Forward Block Party was started by whom?

- (A) Subhash Chandra Bose (B) Motilal Nehru
(C) Rajaji (D) Raja Ram Mohan Roy

ஃபார்வர்டு பிளாக் கட்சி யாரால் தொடங்கப்பட்டது?

- (A) சுபாஷ் சந்திரபோஸ் (B) மோதிலால் நேரு
(C) ராஜாஜி (D) ராஜாராம் மோகன் ராய்

57. The National Fruit which is common for Philippines, Pakistan and India is

- (A) Banana (B) Fig
(C) Mango (D) Jack

பிலிப்பைன்ஸ், பாகிஸ்தான் மற்றும் இந்திய நாடுகளின் பொதுவான தேசிய பழம்

- (A) வாழை (B) அத்தி
(C) மா (D) பலா

58. Who said that "All Lives are alike birth"?

- (A) Kambar (B) Ilangovadigal
(C) Thirumoolar (D) Thiruvalluvar

"பிறப்பொக்கும் எல்லா உயிர்க்கும்" என்றவர்

- (A) கம்பர் (B) இளங்கோவடிகள்
(C) திருமூலர் (D) திருவள்ளுவர்

59. The most populous state of India is

- (A) Bihar (B) Maharashtra
(C) Uttarpradesh (D) West Bengal

அதிக மக்கட் தொகையை கொண்ட இந்திய மாநிலம்

- (A) பீஹார் (B) மகாராஷ்டிரம்
(C) உத்திரப்பிரதேசம் (D) மேற்கு வங்கம்

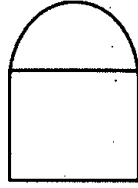
60. Choose the correct district which is rich in iron ores in Tamil Nadu

- (A) Ariyalur (B) Madurai
(C) Salem (D) Kallakurichi

தமிழ்நாட்டில் இரும்புத் தாதுக்கள் அதிகம் நிறைந்த சரியான மாவட்டத்தை தேர்ந்தெடுக்கவும்

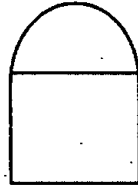
- (A) அரியலூர் (B) மதுரை
(C) சேலம் (D) கள்ளக்குறிச்சி

61. What is the colour, on top of the Mile Stones in State Highways?



- (A) Blue (B) Yellow
(C) Green (D) Black

மாநில நெடுஞ்சாலையின் ஓரத்திலுள்ள மைல் கல்லின் மேற்புறம் எவ்வர்ணம் பூசப்பட்டிருக்கும்




- (A) நீலம் (B) மஞ்சள்
(C) பச்சை (D) கருப்பு

62. What is the meaning for this 50?



- (A) Should proceed not below the speed of 50 Km/Hr
- (B) Should proceed below the speed of 50 Km/Hr
- (C) May proceed above the speed of 50 Km/Hr if necessary
- (D) None of the above

50 என்பதன் விளக்கம் என்ன?



- (A) கண்டிப்பாக 50 கி.மீ/மணி வேகத்திற்குக் குறையாமல் செல்ல வேண்டும்
- (B) 50 கி.மீ/மணி வேகத்திற்குள் செல்ல வேண்டும்
- (C) தேவைப்பட்டால் 50 கி.மீ/மணி வேகத்திற்குக் கூடுதலாகவும் செல்லலாம்
- (D) எதுவும் இல்லை

63. This Symbol indicates



- (A) There ahead a Four way Junction
- (B) Do not stop or park the vehicle
- (C) Do not park the vehicle
- (D) None of the above



என்பது எதைக் குறிக்கிறது

- (A) நான்கு முனைச் சந்திப்பு சாலை உள்ளது
- (B) வாகனத்தை நிறுத்தவோ அல்லது நிறுத்தி வைக்கவோ கூடாது
- (C) வாகனத்தை பார்க்கிங் செய்யக் கூடாது
- (D) எதுவும் இல்லை

64. The continuous yellow line in the middle of the road means



- (A) May cross the yellow line if necessary
- (B) Any way should not cross the yellow line
- (C) May cross the yellow line while overtaking
- (D) None of the above

சாலையின் மையத்தில் நீளவாட்டில் வரையப்பட்டிருக்கும் தொடர்ச்சியான ஒரு மஞ்சள் கோடு



- (A) தேவைப்பட்டால் மஞ்சள் கோட்டைக் கடக்கலாம்
- (B) மஞ்சள் கோட்டைக் கண்டிப்பாகக் கடக்கக் கூடாது
- (C) வாகனத்தை முந்திச் செல்லும்போது மட்டும் கடக்கலாம்
- (D) எதுவும் இல்லை


65. This symbol indicates



- (A) Hospital is nearby
(C) Restaurant

- (B) Resting Place is nearby
(D) None of the above

இச்சின்னம் எதைக் குறிக்கிறது?



- (A) மருத்துவமனை அருகிலுள்ளது
(C) உணவு விடுதி

- (B) ஓய்வு இடம் அருகிலுள்ளது
(D) எதுவும் இல்லை

66. This symbol indicates



- (A) Must turn left side
(B) Must turn right side
(C) Road is turning towards right side
(D) None of the above

இச்சின்னம் எதைக் குறிக்கிறது?



- (A) கண்டிப்பாக இடதுபுறம் திரும்ப வேண்டும்
(B) கண்டிப்பாக வலதுபுறம் திரும்ப வேண்டும்
(C) சாலை வலதுபுறமாக வளைந்து செல்கிறது
(D) எதுவும் இல்லை

67. How can the efficiency of a driver will be judged?

- (A) Driving the vehicle in the proper speed
- (B) Driving the vehicle carefully
- (C) Driving the vehicle safely by adjudging other vehicles
- (D) None of the above

ஓர் ஓட்டுநரின் திறமையை எவ்வாறு நிர்ணயம் செய்யலாம்?

- (A) வாகனத்தைச் சீரான வேகத்தில் செலுத்துவது
- (B) வாகனத்தை கவனமாக செலுத்துவது
- (C) வாகனத்தை பாதுகாப்பாக, மற்ற வாகனங்களை அனுசரித்து செலுத்துதல்
- (D) எதுவும் இல்லை

68. In a four cylinder engine, to get power for one time for every cylinder, the flywheel should complete _____ rotations.

- (A) One rotation
- (B) Two rotations
- (C) Four rotations
- (D) Eight rotations

நான்கு சிலிண்டர் எஞ்சினில், எல்லா சிலிண்டர்களிலும் ஒருமுறை பவர் கிடைக்க பிளைவீல் _____ சுற்றுகள் சுற்ற வேண்டும்

- (A) ஒன்று
- (B) இரண்டு
- (C) நான்கு
- (D) எட்டு

69. Firing Order of a Four Cylinder Engine

- (A) 1, 2, 3, 4
- (B) 1, 3, 4, 2
- (C) 1, 4, 3, 2
- (D) None of the above

நான்கு சிலிண்டர் எஞ்சினின் ஃபயர் ஆர்டர் _____

- (A) 1, 2, 3, 4
- (B) 1, 3, 4, 2
- (C) 1, 4, 3, 2
- (D) எதுவும் இல்லை

70. What does it means BS-III in the vehicles existing at present?

- (A) Model of the vehicle
- (B) Productivity of our Nation
- (C) Indicate the level of "Toxic content" in the exhaust smoke
- (D) None of the above

தற்போதுள்ள வாகனங்களில் உள்ள BS-III என்பது

- (A) வாகன மாடலைக் குறிக்கும்
- (B) நமது நாட்டின் உற்பத்தியினைக் குறிக்கும்
- (C) வாகன புகையில் வெளிப்படும் நச்சுத் தன்மையின் அளவைக் குறிக்கும்
- (D) எதுவும் இல்லை

71. Why a Turbo-Charger is placed in a vehicle?

- (A) To cool the engine
- (B) To clean the smoke exhausted from the engine
- (C) To feed more air to the cylinders
- (D) To clean the air to engine

வாகனத்தில் டர்போ-சார்ஜர் பொருத்தப்பட்டுள்ளதன் காரணம்

- (A) எஞ்சினை குளிர்விக்க
- (B) எஞ்சினிலிருந்து வெளியேறும் புகையைச் சுத்தப்படுத்த
- (C) சிலிண்டருக்குள் அதிகமாக காற்றை அனுப்ப
- (D) காற்றைச் சுத்தப்படுத்தி அனுப்ப


72. Which is the proper Gear Position to start the engine?

- (A) In Neutral position
- (B) In Neutral position and the Clutch Pedal pressed in full
- (C) In Gear engaged position and the Clutch Pedal pressed in full
- (D) None of the above

எஞ்சினை முறையாக ஸ்டார்ட் செய்தல்


- (A) கியர் நியூட்ரல் நிலையில்
- (B) கியர் நியூட்ரல் நிலையில் கிளட்ச் முழுவதுமாக அழுத்திக் கொண்டு
- (C) கியரில்போட்டு கிளட்ச் பெட்லை முழுவதுமாக அழுத்திக் கொண்டு
- (D) எதுவும் இல்லை

73. This Symbol indicates




- (A) Must turn left side
- (B) Must keep the left hand side
- (C) There is a slope in the left side
- (D) None of the above

இச்சின்னம்



- (A) கண்டிப்பாக இடதுபுறம் திரும்ப வேண்டும்
- (B) கண்டிப்பாக இடது ஓரம் செல்க
- (C) இடதுபுறம் சரிவாக உள்ளது
- (D) எதுவும் இல்லை

74. This Symbol indicates




(A) Give way

(B) Family Planning

(C) Allow to overtake

(D) None of the above

இச்சின்னம்



(A) வழி விடு

(B) குடும்ப கட்டுப்பாடு

(C) வழி கொடு

(D) எதுவும் இல்லை

75. This Symbol indicates



(A) Guarded Railway Gate

(B) Train Engine is coming

(C) Un-Guarded Railway Gate

(D) None of the above

இச்சின்னம்




(A) பாதுகாப்புள்ள ரயில்வே கேட்

(B) இரயில் எஞ்சின் வருகிறது

(C) பாதுகாப்பற்ற ரயில்வே கேட்


(D) எதுவும் இல்லை

76. This Symbol indicates



- (A) Must turn left side
- (B) Road is turning towards left side
- (C) If necessary, may go left side
- (D) None of the above

இச்சின்னம்



- (A) கண்டிப்பாக இடதுபுறம் திரும்பவும்
- (B) சாலை இடதுபுறம் திரும்பிச் செல்கிறது
- (C) தேவைப்பட்டால் இடதுபுறம் செல்லலாம்
- (D) எதுவும் இல்லை

77. To start / move from the "Traffic Signal"

- (A) Red, Yellow, Green
- (B) Red, Green
- (C) Yellow, Red, Green
- (D) None of the above

டிராபிக் சிக்னலிலிருந்து புறப்படும் பொழுது

- (A) சிகப்பு, மஞ்சள், பச்சை
- (B) சிகப்பு, பச்சை
- (C) மஞ்சள், சிகப்பு, பச்சை
- (D) எதுவும் இல்லை

78. First thing to do to stop the vehicle

- (A) Apply brake-after pressing the clutch pedal
- (B) Apply brake first and then press the clutch pedal
- (C) Apply both Brake and Clutch at the same time
- (D) None of the above

வாகனத்தை நிறுத்துவதற்கு முதலில்

- (A) கிளட்ச் பெடலை அழுத்திய பிறகு பிரேக் அழுத்த வேண்டும்
- (B) பிரேக் பெடலை அழுத்திய பிறகுதான் கிளட்ச் பெடலை அழுத்த வேண்டும்
- (C) இரண்டுமே ஒரே சமயத்தில் அழுத்த வேண்டும்
- (D) எதுவும் இல்லை

79. This transfers the power from Gear Box to Rear Wheels

- (A) Gear Box
- (B) Clutch
- (C) Propeller Shaft
- (D) None of the above

கியர்பாக்சிலிருந்து வரும் இயந்திர சக்தியை இது பின் அச்சுக்கு எடுத்துச் செல்கிறது

- (A) கியர்பாக்ஸ்
- (B) கிளட்ச்
- (C) புரொப்பெல்லர் ஷாப்ட்
- (D) எதுவும் இல்லை

80. Which one distribute diesel to the injectors as per the Firing Order?

- (A) Distributer
- (B) Fuel Injection Pump
- (C) Spark Plug
- (D) None of the above

உசலை பயரிங் ஆர்டர் படி இஞ்செக்டர்களுக்குப் பிரித்துத் தருவது

- (A) டிஸ்ட்ரிபியூட்டர்
- (B) பியூல் இஞ்செக்சன் பம்ப்
- (C) ஸ்பார்க் பிளக்
- (D) எதுவும் இல்லை

81. This is fixed in the Engine Cylinder Head

- (A) Inlet, Exhaust Valves (B) Engine Oil Pump
(C) Connecting Rod (D) None of the above

எஞ்சின் சிலிண்டர் ஹெட்டில் இது பொருத்தப்பட்டுள்ளது

- (A) இன்லெட், எக்சாஸ்ட் வால்வுகள்
(B) எஞ்சின் ஆயில் பம்ப்
(C) கனெக்டிங் ராடு
(D) எதுவும் இல்லை

82. This cleans the dusts in the fuel

- (A) Oil Filter (B) Diesel Filter
(C) Air Filter (D) None of the above

எரிபொருளிலுள்ள தூசிகளை இது வடிகட்டி சுத்தப்படுத்துகிறது

- (A) ஆயில் பில்டர் (B) டீசல் பில்டர்
(C) ஏர் பில்டர் (D) எதுவும் இல்லை

83. Improper or worn out Spring Bushes cause

- (A) Worn out of spring bush
(B) Spring pin will come out
(C) Spring leaves will be dislocated
(D) None of the above

ஸ்பிரிங் பிராக்கட்டுகள் சரியாக இல்லாவிட்டால்

- (A) ஸ்பிரிங் புஷ் தேயும்
(B) ஸ்பிரிங் பின் கழன்றுவிடும்
(C) ஸ்பிரிங் பட்டைகள் கலைந்து காணப்படும்
(D) எதுவும் இல்லை

84. The steering system of the vehicle is fixed in

- (A) Gear Box
- (B) Rear Axle Assembly
- (C) Front Axle Assembly
- (D) None of the above

வாகனத்தைத் திருப்புவதற்கான ஸ்டியரிங் அமைப்பு இதில் பொருத்தப்பட்டுள்ளது

- (A) கியர் பாக்ஸ்
- (B) ரியர் ஆக்சில் அசெம்பிளி
- (C) பிரண்ட் ஆக்சில் அசெம்பிளி
- (D) எதுவும் இல்லை

85. This should be replaced when the engine oil and radiator water found mixed

- (A) Oil Pump
- (B) Crank Case
- (C) Cylinder Head Gasket
- (D) None of the above

எஞ்சின் ஆயிலும், ரேடியேட்டர் தண்ணீரும் கலந்தால் இதை மாற்ற வேண்டும்

- (A) ஆயில் பம்ப்
- (B) கிராங்க் கேஸ்
- (C) கிலிண்டர் ஹெட் கேஸ்கட்
- (D) எதுவும் இல்லை

86. Which sends the fuel into the cylinders with high pressure?

- (A) Injector
- (B) Lift Pump
- (C) Fuel Injection Pump
- (D) None of the above

எரிபொருளை உயர் அழுத்தத்தில் சிலிண்டருக்குள் ஸ்பிரே செய்வது

- (A) இஞ்செக்டர்
- (B) லிப்ட் பம்ப்
- (C) பியூல் இஞ்செக்டர் பம்ப்
- (D) எதுவும் இல்லை

87. This helps to rotate the rear wheels in different speeds while turning in a curve

- (A) Crown Wheel
- (B) Sun, Planet Gears
- (C) Pinion
- (D) None of the above

வளைவுகளில் திரும்பும் போது பின்புறச் சக்கரங்கள் வெவ்வேறு வேகத்தில் செய்ய வகை செய்வது

- (A) கிரௌன் வீல்
- (B) சன், பிளானட் கியர்கள்
- (C) பினியன்
- (D) எதுவும் இல்லை

88. ABS Brake System used to

- (A) Fill air in the Air tank immediately
- (B) Avoiding the Clutch slipping
- (C) Saves the vehicle from skidding
- (D) None of the above

ABS பிரேக் சிஸ்டம்

- (A) ஏர் டேங்கில் காற்றை விரைவாக நிரப்புகிறது
- (B) கிளட்ச் வழக்குதலைத் தடுக்கிறது
- (C) வாகனம் ஸ்கிட் ஆகாமல் பாதுகாப்பைத் தருகிறது
- (D) எதுவும் இல்லை

89. What can a driver know from "Odometer"?

- (A) Speed of the vehicle
- (B) Revolution of the engine
- (C) Distance covered by the vehicle
- (D) None of the above

ஓடா மீட்டர் மூலம் ஓட்டுநர் அறிந்து கொள்ளும் விபரம்

- (A) வாகனத்தின் வேகம்
- (B) எஞ்சினின் சுழற்சி வேகம்
- (C) வாகனம் ஓடிய தூரம்
- (D) எதுவும் இல்லை

90. Between the Battery Terminals and Cables

- (A) Apply Grease
- (B) Apply Vaseline
- (C) Apply Oil
- (D) None of the above

பேட்டரி டெர்மினல்களுக்கும், கேபில்களுக்கும் இடையில்

- (A) கிரீஸ் தடவ வேண்டும்
- (B) வாசலின் தடவ வேண்டும்
- (C) ஆயில் தடவ வேண்டும்
- (D) எதுவும் இல்லை

91. When the vehicle in the top gear and the speed of the vehicle reduced to the speed of a man walking, driver has to change

- (A) Shift to second gear and gradually increase the gears
- (B) Shift to third gear and gradually increase the gears
- (C) Shift to fourth gear and gradually increase the gears
- (D) None of the above

வாகனம் டாப் கியரில் சென்று கொண்டிருக்கும்பொழுது, அதன் வேகம் ஒரு நபர் நடக்கும் வேகத்திற்கு குறைந்து விட்டால் உடனடியாக

- (A) இரண்டாவது கியருக்கு வந்து பிறகு மேல் கியருக்கு படிப்படியாக மாற்றம் செய்ய வேண்டும்
- (B) மூன்றாவது கியருக்கு வந்து பிறகு மேல் கியருக்கு படிப்படியாக மாற்றம் செய்ய வேண்டும்
- (C) நான்காவது கியருக்கு வந்து பிறகு மேல் கியருக்கு படிப்படியாக மாற்றம் செய்ய வேண்டும்
- (D) எதுவும் இல்லை

92. The "Ground Clearance" of a vehicle means

- (A) The measurement between the roof of the vehicle and the ground
- (B) The measurement between the bottom end of rear axle housing and the ground
- (C) The measurement between the centre of the front wheels across
- (D) None of the above

வாகனத்தின் கிரவுண்ட் கிளியரன்ஸ் என்பது

- (A) வாகனத்தின் கூறைக்கும், தரைக்கும் இடையேயுள்ள அளவு
- (B) ரியர் ஆக்சில் ஹவுசிங்கின் கீழ் முனைக்கும், தரைக்கும் இடையேயுள்ள அளவு
- (C) குறுக்கு வாட்டில் முன் இரண்டு சக்கரங்களின் மையக் கோடுகளுக்கு இடையேயுள்ள அளவு
- (D) எதுவும் இல்லை

93. If the front tyre/s burst while driving

- (A) Use Foot brake immediately
- (B) Use Clutch immediately
- (C) Hold the Steering Wheel firmly
- (D) None of the above

வாகனம் ஓடும்போது முன் சக்கரத்தின் டயர் வெடிக்கிறது

- (A) உடனடியாக கால் பிரேக்கை உபயோகிக்கவும்
- (B) உடனடியாக கிளட்சை உபயோகிக்கவும்
- (C) ஸ்டீயரிங்கை கெட்டியாக பிடிக்கவும்
- (D) எதுவும் இல்லை

94. If a driver consumes liquor or drugs

- (A) Determination power of the brain increases.
- (B) Determination power of the brain decreases
- (C) Determination power of the brain not affected
- (D) None of the above

ஓட்டுநர் மதுபானம் அல்லது போதையூட்டும் பொருட்கள் அருந்துவதனால்

- (A) மூளையின் முடிவெடுக்கும் தன்மை அதிகரிக்கிறது
- (B) மூளையின் முடிவெடுக்கும் தன்மை குறைகிறது
- (C) மூளையின் முடிவெடுக்கும் தன்மை பாதிக்கப்படுவதில்லை
- (D) எதுவும் இல்லை

95. To use the Motor Vehicle for transport

- (A) Get permission from Inspector of Police
- (B) Get permission from the Officer of Transport Corporation
- (C) Get permission from the Regional Transport Officer
- (D) None of the above

ஒரு மோட்டார் வாகனத்தைப் போக்குவரத்துக்குப் பயன்படுத்த

- (A) போலீஸ் ஆய்வாளர் வசம் அனுமதி பெற வேண்டும்
- (B) கழகப் போக்குவரத்து அதிகாரியிடம் அனுமதி பெற வேண்டும்
- (C) மண்டல போக்குவரத்து அதிகாரியிடம் அனுமதி பெற வேண்டும்
- (D) எதுவும் இல்லை

96. Major Controls which are controlled by hands

- (A) Gear, Steering and Hand Brake
- (B) Steering, Accelerator and Hand Brake
- (C) Hand Brake, Steering and Brake
- (D) None of the above

கைகளால் கட்டுப்படுத்தப்படும் மேஜர் கன்ட்ரோல்கள்

- (A) கியர், ஸ்டியரிங், கை பிரேக்
- (B) ஸ்டியரிங், ஆக்சிலரேட்டர், கை பிரேக்
- (C) கை பிரேக், ஸ்டியரிங், பிரேக்
- (D) எதுவும் இல்லை

97. While driving in hill declination

- (A) Driving with engine shut off
- (B) Driving with clutch off
- (C) Do not drive with gear in neutral
- (D) None of the above

மலைச் சரிவுகளில் வாகனம் ஓட்டும் பொழுது

- (A) எஞ்சின் ஆப் செய்து ஓட்டலாம்
- (B) கிளட்ச் ஆப் செய்து ஓட்டலாம்
- (C) கியர் நீயுட்ரலில் ஓட்டக் கூடாது
- (D) எதுவும் இல்லை

98. In curves

- (A) Do not overtake
- (B) Can overtake
- (C) May overtake with caution
- (D) None of the above

வளைவுகளில் வாகனத்தை

- (A) முந்தக் கூடாது
- (B) முந்தலாம்
- (C) எச்சரிக்கையாக முந்தலாம்
- (D) எதுவும் இல்லை

99. For Emergency Vehicles

- (A) Do not give way
- (B) Should give way with preference
- (C) Should over take
- (D) None of the above

அவசர வாகனங்களுக்கு

- (A) வழி விடக் கூடாது
- (B) முன்னுரிமை அளித்து வழி விட வேண்டும்
- (C) முந்தி செல்வது
- (D) எதுவும் இல்லை

100. While a electric fire in a vehicle, as a first step

- (A) Extinguish it by pouring water
- (B) Extinguish it by spreading sand
- (C) Remove the Battery Terminal Cable connection
- (D) None of the above

வாகனத்தில் மின்சாரத் தீ ஏற்பட்டால் முதலில்

- (A) தண்ணீர் ஊற்றி அணைக்க வேண்டும்
- (B) மணலைப் போட்டு அணைக்க வேண்டும்
- (C) பேட்டரி கேபில் இணைப்பைத் துண்டித்து விட வேண்டும்
- (D) எதுவும் இல்லை

101. A driver can give good exercise to his eyes by

- (A) Always keep seeing only right side of him
- (B) Always keep seeing only left side of him
- (C) Without keeping eyes on a same place, should used to see both the right and left sides of him and also to see long and short distance
- (D) None of the above

ஓட்டுநர் கண்களுக்கு நல்ல பயிற்சியளிக்க

- (A) ஓட்டுநருக்கு வலது பக்கமாகவே பார்க்க வேண்டும்
- (B) ஓட்டுநருக்கு இடது பக்கமாக பார்க்க வேண்டும்
- (C) பார்வை ஒரே இடத்தில் தேங்கவிடாமல், வலது, இடது புறம் நீண்டும் குறுகியும் இருக்குமாறு பழகிக் கொள்ள வேண்டும்
- (D) எதுவும் இல்லை

102. The colour of the Mile Stones placed in the Rural roads

- (A) Blue
- (B) Black
- (C) White
- (D) None of the above

கிராமச் சாலை கிலோ மீட்டர் கற்களில் பூசப்பட்டிருக்கும் வண்ணம்

- (A) நீலம்
- (B) கருப்பு
- (C) வெள்ளை
- (D) எதுவும் இல்லை

103. Where the Main Road and Approach Road meets, the driver should

- (A) Give preference to the vehicles coming from Main Road
- (B) Give preference to the vehicles coming from Approach Road
- (C) No preference for any vehicles
- (D) None of the above

ஒரு முதன்மைச் சாலை, கிளைச்சாலை சந்திக்கும் சந்திப்பில் ஓட்டுநர்

- (A) முதன்மைச் சாலையில் வரும் வாகனங்களுக்கு முன்னுரிமை கொடுப்பது
- (B) கிளைச் சாலையில் வரும் வாகனங்களுக்கு முன்னுரிமை கொடுப்பது
- (C) எந்த வாகனங்களுக்கும் முன்னுரிமை கிடையாது
- (D) எதுவும் இல்லை

104. Validity of Learner's Licence (LLr) from the date of issue is

- (A) One Month
- (B) Three Months
- (C) Six Months
- (D) None of the above

பயிற்சி உரிமம் வழங்கப்பட்ட தேதியிலிருந்து செல்லுபடியாகும் காலம்

- (A) ஒரு மாதம்
- (B) மூன்று மாதம்
- (C) ஆறு மாதம்
- (D) எதுவும் இல்லை

105. In a Light Signal, this means to get ready to go

- (A) Yellow light will glow
- (B) Green light will glow
- (C) Red and Yellow lights will glow
- (D) None of the above

விளக்கு சிக்னலில் புறப்படத் தயார் என அறிய

- (A) மஞ்சள் எரியும்
- (B) பச்சை எரியும்
- (C) சிகப்பு, மஞ்சளும் எரியும்
- (D) எதுவும் இல்லை

106. This type of Sign is kept in Un-controlled Junctions

- (A) Mandatory Sign (B) Caution Sign
(C) Informatory Sign (D) None of the above

கட்டுப்படுத்தப்படாத சாலைச் சந்திப்புகளில் இந்தச் சின்னம் வைக்கப்பட்டிருக்கும்

- (A) உத்தரவுச் சின்னம் (B) எச்சரிக்கைச் சின்னம்
(C) தகவல் சின்னம் (D) எதுவும் இல்லை

107. In general while seeing the Caution Signs, the driver should

- (A) Reduce the speed of the vehicle
(B) Increase the speed of the vehicle
(C) To continue to go in the same speed
(D) None of the above

பொதுவாக எச்சரிக்கைச் சின்னங்களைக் கண்டால் ஓட்டுநர்

- (A) வாகனத்தின் வேகத்தைக் குறைக்க வேண்டும்
(B) வாகனத்தின் வேகத்தை அதிகரிக்க வேண்டும்
(C) அதே வேகத்தில் செல்ல வேண்டும்
(D) எதுவும் இல்லை

108. In Hill Roads, the preference will be given for the below vehicles

- (A) The vehicles going downwards
(B) The vehicles going upwards
(C) No preference for any vehicles
(D) None of the above

மலைச் சாலைகளில் கீழ்க்கண்ட வாகனங்களுக்கு முன்னுரிமை

- (A) கீழ் நோக்கிச் செல்லும் வாகனங்கள்
(B) மேல் நோக்கிச் செல்லும் வாகனங்கள்
(C) எந்த வாகனங்களுக்கும் முன்னுரிமை இல்லை
(D) எதுவும் இல்லை

109. The major reasons for more number of accidents is

- (A) Inefficiency of the driver
- (B) The driver physically not healthy
- (C) Wrong mentality of the driver
- (D) None of the above

அதிக அளவிலான மோதல்களுக்கு முக்கிய காரணம்

- (A) ஓட்டுநரின் திறமைக் குறைவு
- (B) ஓட்டுநரின் உடல்நலக் குறைவு
- (C) ஓட்டுநரின் தவறான மனப்பான்மை
- (D) எதுவும் இல்லை

110. This Symbol means




- (A) Give way
- (B) Stop
- (C) Make way
- (D) None of the above

இச்சின்னம்




- (A) வழி விடவும்
- (B) நில்
- (C) வழி கொடு
- (D) எதுவும் இல்லை

111. This Symbol means



- (A) Train engine is coming
- (B) Unguarded Railway Gate
- (C) Guarded Railway Gate
- (D) None of the above

இச்சின்னம்




- (A) இரயில் எஞ்சின் வருகிறது
- (B) பாதுகாப்பற்ற ரயில்வே கேட்
- (C) பாதுகாப்புள்ள ரயில்வே கேட்
- (D) எதுவும் இல்லை

112. This Symbol means



- (A) Road turns to Right side
- (B) Must turn to Right side
- (C) If necessary, may turn Right side
- (D) None of the above

இச்சின்னம்



- (A) சாலை வலதுபுறம் திரும்பிச் செல்கிறது
- (B) கண்டிப்பாக வலதுபுறம் திரும்பவும்
- (C) தேவைப்பட்டால் வலதுபுறம் செல்லலாம்
- (D) எதுவும் இல்லை

113. To whom the preference in the Road?

- (A) Bus driver
- (B) Pedestrian
- (C) Cyclers
- (D) None of the above

சாலையில் யாருக்கு முன்னுரிமை?

- (A) பேருந்து ஓட்டி
- (B) பாதசாரி
- (C) சைக்கிள் ஓட்டி
- (D) எதுவும் இல்லை

114. To turn the vehicle while going in the City Roads

- (A) Use the lane at the Right side
- (B) Use the lane at the Left side
- (C) Any where you can turn the vehicle by using 3 point turn method
- (D) None of the above

நகர்ப்புறச் சாலையில் சென்று கொண்டிருக்கும் போது வாகனத்தைத் திருப்ப

- (A) வலப்புற சந்தைப் பயன்படுத்த வேண்டும்
- (B) இடப்புற சந்தைப் பயன்படுத்த வேண்டும்
- (C) எங்கு வேண்டுமானாலும் மூன்று நிலை திருப்ப முறையில் திருப்பலாம்
- (D) எதுவும் இல்லை

115. Clutch riding means

- (A) Placing foot on brake pedal and accelerator pedal same time
- (B) Unnecessarily placing the foot on the clutch pedal
- (C) Driving with accelerator
- (D) None of the above

கிளட்ச் ரைடிங் என்பது

- (A) பிரேக்கையும், ஆக்சிலரேட்டரையும் ஒரு காலில் தருவது
- (B) தேவையில்லாமல் கிளட்ச் பெடல் மீது கால் வைத்து ஓட்டுவது
- (C) ஆக்சிலரேட்டரால் ஓட்டுவது
- (D) எதுவும் இல்லை

116. The colour of the Mile Stones placed at the Major District Roads.

- (A) Blue
- (B) Yellow
- (C) Green
- (D) Black

முக்கிய மாவட்ட சாலையின் ஓரத்திலுள்ள மைல் கல்லின் மேற்புறம் எவ்வர்ணம் பூசப்பட்டிருக்கும்?

- (A) நீலம்
- (B) மஞ்சள்
- (C) பச்சை
- (D) கருப்பு

117. This Sign means.




- (A) Must turn Left side
- (B) Must not turn Right side
- (C) The Road is turning Right side
- (D) None of the above

இச்சின்னம் எதைக் குறிக்கிறது




- (A) கண்டிப்பாக இடதுபுறம் திரும்ப வேண்டும்
- (B) கண்டிப்பாக வலதுபுறம் திரும்பக் கூடாது
- (C) சாலை வலதுபுறமாக வளைந்து செல்கிறது
- (D) எதுவும் இல்லை

118. This Sign means



- (A) Road is closed
- (B) Limit closed**
- (C) Here after the road not continues
- (D) None of the above

இச்சின்னம்



- (A) சாலை தடை செய்யப்பட்டுள்ளது
- (B) தடை முடிவு சின்னம்**
- (C) சாலை தொடர்ச்சி இல்லை
- (D) எதுவும் இல்லை

119. This Sign means



- (A) Road is closed
- (C) Road Junction**
- (B) Road repair work is undergoing
- (D) None of the above

இச்சின்னம்



- (A) சாலை தடை செய்யப்பட்டுள்ளது
- (C) சாலைச் சந்திப்பு**
- (B) சாலை ரிப்பேர் நடைபெறுகிறது
- (D) எதுவும் இல்லை

120. This Sign means



- (A) May stop the vehicle but not to park it
- (B) The vehicle should not be stopped or parked
- (C) Do not stop the vehicle
- (D) None of the above



என்பது எதைக் குறிக்கிறது

- (A) வாகனத்தை நிறுத்தலாம், நிறுத்தி வைக்கக் கூடாது
- (B) வாகனத்தை நிறுத்தவோ அல்லது நிறுத்தி வைக்கவோ கூடாது
- (C) வாகனத்தை நிறுத்தக் கூடாது
- (D) எதுவும் இல்லை

121. When approaching the Road Junction

- (A) Increase the speed
- (B) Reduce the speed
- (C) Go fast by blowing the horn
- (D) None of the above

சாலைச் சந்திப்பை நெருங்கும்போது

- (A) வேகத்தைக் கூட்ட வேண்டும்
- (B) வேகத்தைக் குறைக்க வேண்டும்
- (C) ஹாரன் அடித்துக் கொண்டே வேகமாக செல்ல வேண்டும்
- (D) எதுவும் இல்லை

122. Wheel Base of a vehicle is

- (A) Measurement between the centre of Front and Rear wheels
- (B) Measurement between the Front and Rear bumpers
- (C) Measurement between the roof top of the vehicle and the ground
- (D) None of the above

வாகனத்தில் வீல் பேஸ் என்பது

- (A) நீள வாட்டில் முன், பின் சக்கரங்களின் மையக் கோடுகளுக்கு இடையேயுள்ள அளவு
- (B) நீள வாட்டில் முன் பம்பரிலிருந்து பின் பம்பர் வரையுள்ள அளவு
- (C) வாகனத்தின் கூரைக்கும் தரைக்கும் இடையேயுள்ள அளவு
- (D) எதுவும் இல்லை

123. When parking the vehicle in the downward slope, the gear position to be selected is

- (A) Reverse Gear
- (B) First Gear
- (C) Top Gear
- (D) None of the above

வாகனத்தை கீழ் நோக்கிய சரிவில் நிறுத்தி வைக்கும்பொழுது

- (A) ரிவர்ஸ் கியரில் நிறுத்த வேண்டும்
- (B) முதலாவது கியரில் நிறுத்த வேண்டும்
- (C) டாப் கியரில் நிறுத்த வேண்டும்
- (D) எதுவும் இல்லை

124. What should be done when sudden brake failure occurred?

- (A) Change to Down Gear
- (B) Press the brake pedal
- (C) Press the clutch pedal
- (D) None of the above

வாகனத்தில் திடீரென்று பிரேக் பிடிக்கவில்லை என்றால்

- (A) கீழ் கியர் மாற்றம் செய்ய வேண்டும்
- (B) பிரேக் பெடலை அழுத்த வேண்டும்
- (C) கிளட்ச் பெடலை அழுத்த வேண்டும்
- (D) எதுவும் இல்லை

125. The practice of Clutch Riding

- (A) Is convenience to the driver
- (B) Saves the fuel
- (C) More use of fuel
- (D) None of the above

கிளட்ச் ரைடிங் செய்வதால்

- (A) ஓட்டுநருக்கு வசதியாக உள்ளது
- (B) எரிபொருள் சேமிக்கப்படுகிறது
- (C) எரிபொருள் அதிகம் செலவாகிறது
- (D) எதுவும் இல்லை

SPACE FOR ROUGH WORK

SPACE FOR ROUGH WORK

7. ஒவ்வொரு வினாவும் (A), (B), (C) மற்றும் (D) என நான்கு விடைகளைக் கொண்டுள்ளது. விண்ணப்பதாரர்கள் அவைகளில் ஒரே ஒரு சரியான விடையைத் தேர்வு செய்து விடைத்தாளில் குறித்துக் காட்ட வேண்டும். ஒரு கேள்விக்கு ஒன்றுக்கு மேற்பட்ட சரியான விடைகள் இருப்பதாகக் கருதினால், மிகச் சரியானது என்று எதைக் கருதுகிறீர்களோ அந்த விடை ஒரே ஒரு வட்டத்தில் மட்டும் நீலம் அல்லது கருமை நிறமுடைய பந்து முனைப் பேனாவினால் விடைத்தாளில் குறித்துக் காட்ட வேண்டும். எப்படியாயினும் ஒரு கேள்விக்கு ஒரே ஒரு விடையைத்தான் தேர்ந்தெடுக்க வேண்டும். உதாரணமாக (B) என்பதை சரியான விடையாகக் கருதினால், அதை பின்வருமாறு குறித்துக் காட்ட வேண்டும்.

(A) ● (C) (D)

8. விண்ணப்பதாரர்கள் வினாத் தொகுப்பின் எந்தப் பக்கத்தையும் நீக்கவோ அல்லது கிழிக்கவோ கூடாது. தேர்வு நேரத்தில் இந்த வினாத் தொகுப்பினையோ அல்லது OMR விடைத்தாளையோ தேர்வுக் கூடத்தை விட்டு வெளியில் எடுத்துச் செல்லக்கூடாது. தேர்வு முடிந்தபின் OMR விடைத்தாளைக் கண்காணிப்பாளரிடம் கொடுத்து விட வேண்டும். தேர்வு முடிந்தவுடன் இவ்வினாத் தொகுப்பினை எடுத்துச் செல்ல அனுமதிக்கப்படுவர்.

9. வினாத் தொகுப்பில் குறிப்புகள் எழுதிப் பார்ப்பதற்குரிய இடத்தைத் தவிர, வேறு இடத்தில் எதையும் எழுதக்கூடாது.

10. மேலே உள்ள அறிவுரைகளை கடைப்பிடிக்க தவறினால், உயர்நீதிமன்றம் முடிவெடுக்கும் எந்த ஒரு நடவடிக்கை அல்லது தண்டனைக்கு விண்ணப்பதாரர்கள் பொறுப்பாவீர்கள்.

11. OMR விடைத்தாளில் உள்ள விடைகளை மாற்ற ஒயிடனர் / பிளேடு / அழிப்பான் போன்றவைகளை பயன்படுத்துதல் அல்லது ஏதேனும் சேதப்படுத்துதல் போன்றவை, OMR விடைத்தாளைச் செல்லாததாக்கிவிடும்.

12. பகுதி 'ஆ' - இல் உள்ள கேள்விகள் தமிழ் மற்றும் ஆங்கிலம் ஆகிய இருமொழிகளிலும் அமைந்துள்ளது. தமிழ் மற்றும் ஆங்கில கேள்விகளின் பதிப்புகளுக்கு இடையில் ஏதேனும் முரண்பாடுகள் இருப்பின் ஆங்கில பதிப்பே இறுதியானது.